



الجمهورية الجزائرية الديمقراطية الشعبية
وزارة التربية الوطنية
الديوان الوطني للامتحانات والمسابقات

دورة: 2023

امتحان بكالوريا التعليم الثانوي
الشعبة: آداب وفلسفة

المدة: 04 سا و 30 د

اختبار في مادة: التاريخ والجغرافيا

على المترشح أن يختار أحد الموضوعين الآتيين:

الموضوع الأول

يحتوي الموضوع على صفتين (02) (من الصفحة 1 من 5 إلى الصفحة 2 من 5)

التاريخ:

الجزء الأول: (06 نقاط)

1) "... ارتفعت سياسة الحرب الباردة إلى مستوى خطير بعد قيام التكتلات العسكرية، ودعا "دالاس" وزير خارجية أمريكا ومعه "نيكسون" نائب رئيس الولايات المتحدة الأمريكية حينئذ إلى دفع الاشتراكية إلى الوراء، كما هاجما بعنف سياسة الحياد الإيجابي و عدم الانحياز التي نادى بها بعض زعماء بلدان إفريقيا وآسيا وفي الوقت نفسه استمرّ التّدخّل العسكري والحروب العدوانية في الجزائر والهند والصّين و العدوان الثلاثي على مصر...".

المرجع: د/ فائق طهبوب. د/ محمد سعيد حمدان. تاريخ العالم الحديث والمعاصر صفحة 425.

المطلوب: اشرح ما تحته خطّ في النصّ.

2) أكمل الجدول التالي الخاص بالولايات التاريخية للثورة الجزائرية بعد مؤتمر الصومام 1956.

رقم الولاية	الولاية الرابعة	الولاية الأولى	الولاية الثالثة	اسم الولاية
		وهران		الشمال القسنطيني

3) عزّف بالشخصيات التالية:

- محمد بلوزداد - جوزيف ستالين - فيدال كاسترو

الجزء الثاني: (04 نقاط)

إنّ النّجاحات الدبلوماسية التي حققتها الثورة الجزائرية على المستوى الخارجي جعلت العالم يعترف بحق الشعب الجزائري في تقرير مصيره، وهو أحد مبادئ السياسة الخارجية للجزائر منذ الاستقلال حتى الآن.

المطلوب: انطلاقا من العبارة واعتمادا على ما درست، اكتب مقالا تاريخيا تبين فيه:

1) النّجاحات التي حققتها دبلوماسية الثورة الجزائرية على المستوى الخارجي.

2) مبادئ السياسة الخارجية للجزائر منذ الاستقلال.



الجغرافيا:

الجزء الأول: (06 نقاط)

1) "... كان لقيام منظمة التجارة العالمية آثار مهمة على الاقتصاد العالمي... وتسعى الدول الأعضاء إلى الاستفادة من تحرير التجارة وحركة رؤوس الأموال الدولية. وقد سبقت ميلاد هذه المنظمة مفاوضات برهنت على التناقضات القائمة بين الدول الصناعية الكبرى الباحثة عن أسواق لتصريف منتجاتها والدول النامية التي تسعى لحماية اقتصادياتها من المنافسة الشديدة والاستفادة من عائدات الضرائب والرسوم الجمركية على السلع الواردة...".

المرجع: د/ عبد الفتاح ثابت ناصر. منظمة التجارة العالمية. (O.M.C) مجلة أكاديمية شمال أوروبا. الإصدار السادس الدنمارك. عام 2020. صفحة 137.

المطلوب: اشرح ما تحته خط في النص.

2) إليك جدولاً يمثل أهم مناطق التبادل التجاري للجزائر عام 2019:

المناطق	أوروبا	آسيا	أمريكا	إفريقيا
الصادرات %	63.69 %	17.93 %	10.84 %	6.06 %
الواردات %	53.40 %	29.04 %	13.44 %	3.19 %

المصدر: المديرية العامة للجمارك. إحصائيات التجارة الخارجية للجزائر لعام 2019 صفحة 21.

المطلوب:

أ) مثل المعطيات الإحصائية الواردة في الجدول بأعمدة بيانية في مجال واحد بمقياس رسم:

1 سم لكل 5 %.

1 سم لكل عمود.

ب) علق على الرسم البياني.

الجزء الثاني: (04 نقاط)

تحاول بلدان عالم الجنوب القضاء على التخلف الاقتصادي الذي تعانيه إلا أنّ مظاهره ما زالت باقية عليها، الأمر الذي جعل شعوبها تعيش وضعاً اجتماعياً مزمياً.

المطلوب: انطلاقاً من العبارة واعتماداً على ما درست، اكتب مقالا جغرافياً تبين فيه:

1) مظاهر التخلف الاقتصادي لبلدان عالم الجنوب.

2) انعكاسات ذلك على الأوضاع الاجتماعية لشعوبها.



الموضوع الثاني

يحتوي الموضوع على (03) صفحات (من الصفحة 3 من 5 إلى الصفحة 5 من 5)

التاريخ:

الجزء الأول: (06 نقاط)

1) "... لقد تطّبت الظروف التي نجمت عن إقامة خطي شال وموريس أن يبذل جيش التحرير الوطني جهودا إضافية لاختراقهما إذ أصبحت جميع المناطق المحاذية للخطين مناطق عسكرية محرمة بعد أن قامت القوات الاستعمارية بتهديم وحرق المنازل والأراضي الزراعية، وإزالة الأشجار المثمرة وقتل الحيوانات...".
المرجع: الجيش. مجلة شهرية للجيش الوطني الشعبي. العدد 496.
نوفمبر 2004. رمضان 1425 هـ. صفحة 19.

المطلوب: اشرح ما تحته خط في النص.

2) عرّف بالشخصيات التالية:

- راجح بيطاط - أحمد مصالي الحاج - جواهر لال نهرو

3) أكمل الجدول التالي:

التاريخ	الحدث
	انعقاد المؤتمر الرابع لحركة عدم الانحياز
22 سبتمبر 1947	
	تأسيس حلف شمال الأطلسي

الجزء الثاني: (04 نقاط)

في الوقت الذي بات فيه العالم خلال الحرب الباردة على وشك اندلاع مواجهة عسكرية مباشرة بين القوتين المتصارعتين، قبل الطرفان المتصارعان بمبادرات تدعو إلى التقارب والتفاهم والجنوح إلى السلم كانت لها انعكاسات على العلاقات الدولية.

المطلوب: انطلاقا من العبارة واعتمادا على ما درست، اكتب مقالا تاريخيا تبين فيه:

1) عوامل قبول الطرفين المتصارعين التقارب والتفاهم.

2) انعكاسات ذلك على العلاقات الدولية.



الجغرافيا:

الجزء الأول: (06 نقاط)

1) "... إنَّ التَّنويع والنَّمو الاقتصادي يُعدَّان من الأمور الحاسمة في تحقيق التَّنمية المستدامة في البلدان الغنيَّة بالموارد الطَّبيعية ومنها النَّفطية، وذلك لأنَّ التَّركيز على الصَّادرات يجعل هذه الاقتصاديات عرضة لتقلُّبات السِّلَع الأساسيَّة والذي يُمكن أن يُوَدِّي إلى تراجع حادٍ ومفاجئٍ للموارد العامَّة وخلق تأثيرٍ سلبيٍّ مُضاعفٍ على بقية مؤشِّرات الاقتصاد الكليّ..."

المرجع: إيمان بورابة، قاسمي سعيد، التَّنويع الاقتصادي كآلية للنَّهوض بالاقتصاد الجزائري. مجلة الدِّراسات الاقتصادية المعاصرة. مجلَّد 06. عدد 01. 2021. صفحة 193.

المطلوب: اشرح ما تحته خطٍّ في النَّص.

2) إليك جدولا يمثِّل قيمة الصَّادرات لمجموعة بريكس (BRICS) عام 2021. الوحدة: مليار دولار.

البلدان	الصَّين	روسيا	الهند	البرازيل	جنوب أفريقيا
القيمة	3363	494	395	280	123

المصدر: قاعدة بيانات البنك العالمي للإنشاء والتعمير (B.I.R.D). 2022.

المطلوب:

أ) علِّق على المعطيات الإحصائيَّة الواردة في الجدول.

ب) على خريطة العالم المرفقة، وقِّع دول مجموعة بريكس (BRICS) الواردة في الجدول.

الجزء الثاني: (04 نقاط)

رغم القوَّة الاقتصاديَّة التي تعرفها منطقة شرق وجنوب شرق آسيا والتي حوَّلتها إلى قطب اقتصادي عالمي لا يَبْقَى شأنًا عن الأقطاب الأخرى إلاَّ أنَّ معيقات كثيرة ما زالت تعترض اقتصادها.

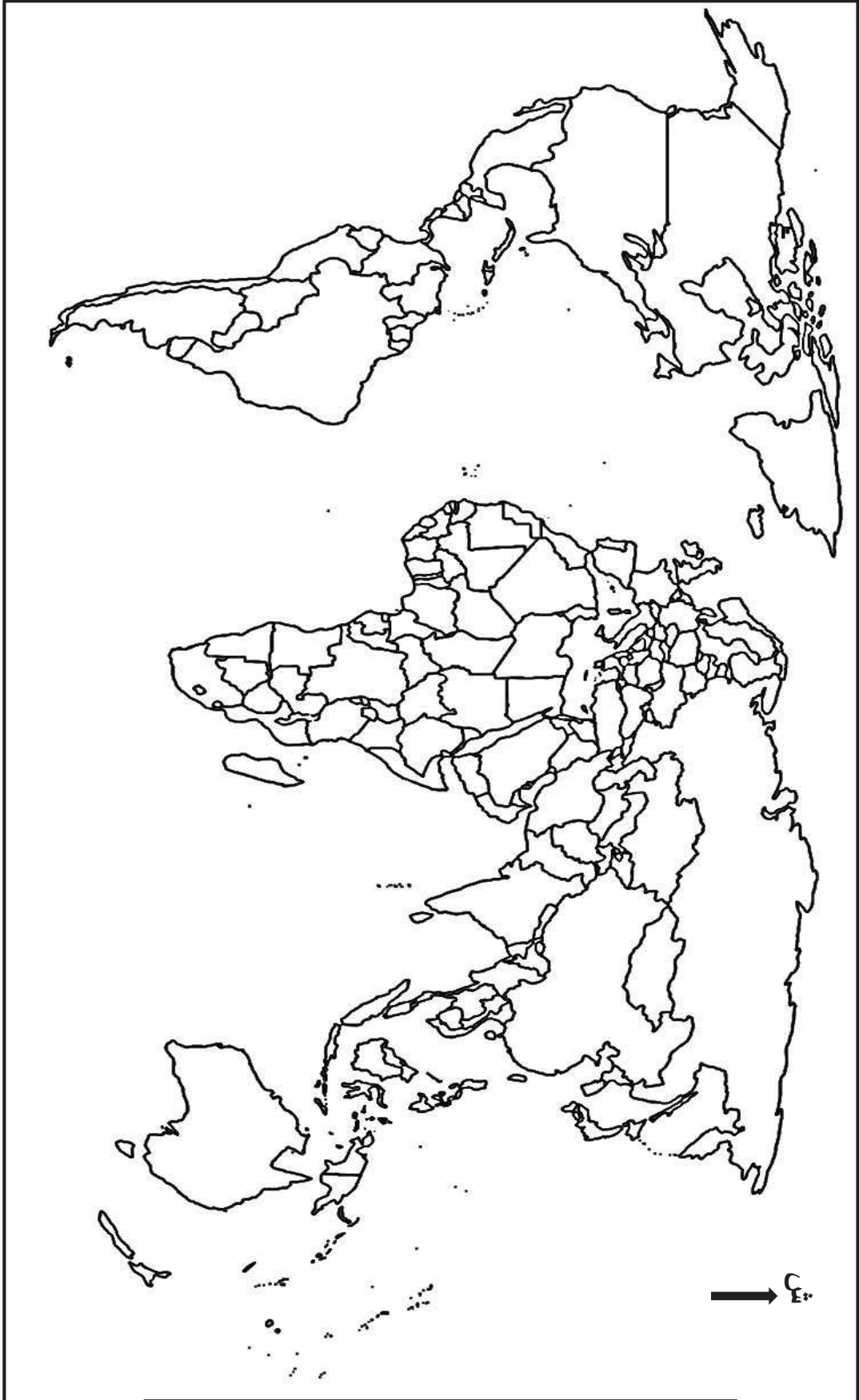
المطلوب: انطلاقًا من العبارة واعتمادًا على ما درست، اكتب مقالا جغرافيا تبين فيه:

1) مظاهر تحوُّل منطقة شرق وجنوب شرق آسيا إلى قطب اقتصادي عالمي.

2) المعيقات التي تعترض اقتصادها.



خريطة العالم



ينجز العمل المطلوب على الخريطة وتعاد مع أوراق الإجابة

انتهى الموضوع الثاني

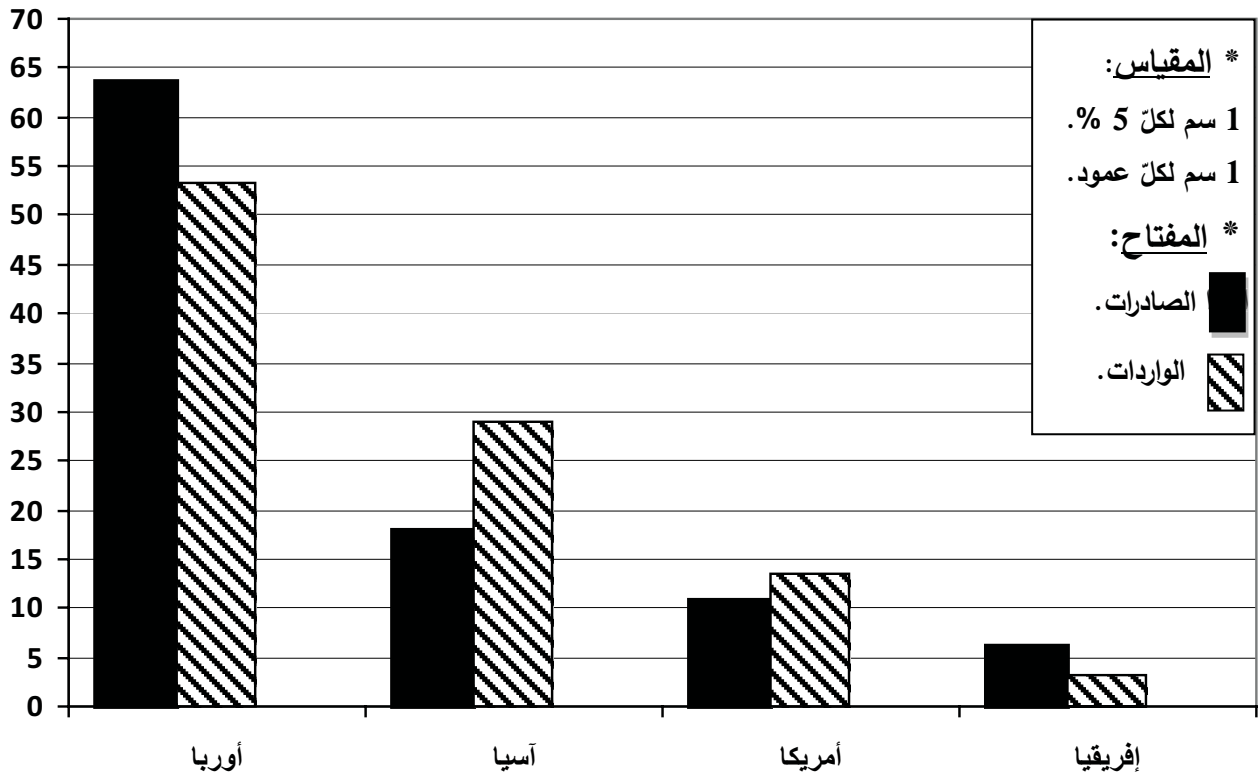
العلامة		عناصر الإجابة (الموضوع الأول)														
مجموع	مجزأة															
06	0.75	<p>* التاريخ:</p> <p>* الجزء الأول:</p> <p>(1) شرح ما تحته خط في النص:</p> <p>❖ الإشتراكية: مذهب ونظام اقتصادي وسياسي واجتماعي يقوم على الحزب الواحد والتخطيط المركزي وعلى سيطرة الدولة على وسائل الانتاج...</p> <p>❖ عدم الانحياز: سياسة تبنتها دول العالم الثالث في إطار حركة عدم الانحياز خلال الحرب الباردة، وتعني عدم الميل أو عدم الانضمام لأي من المعسكرين الشرقي أو الغربي...</p> <p>❖ العدوان الثلاثي: هجوم عسكري تعرضت له مصر في 29 أكتوبر 1956 من طرف ثلاثة دول (بريطانيا، فرنسا وإسرائيل) بعد قيام جمال عبد الناصر بتأميم قناة السويس في 26 جويلية 1956، وهي أزمة من أزمات الحرب الباردة.</p>														
		<p>(2) إكمال الجدول الخاص بالولايات التاريخية للثورة الجزائرية بعد مؤتمر الصومام 1956.</p> <table border="1"> <thead> <tr> <th>رقم الولاية</th> <th>الولاية 6</th> <th>الولاية 4</th> <th>الولاية 1</th> <th>الولاية 5</th> <th>الولاية 3</th> <th>الولاية 2</th> </tr> </thead> <tbody> <tr> <td>اسم الولاية</td> <td>الصحراء</td> <td>الجزائر</td> <td>الأوراس</td> <td>وهران</td> <td>القبائل</td> <td>الشمال القسنطيني</td> </tr> </tbody> </table>	رقم الولاية	الولاية 6	الولاية 4	الولاية 1	الولاية 5	الولاية 3	الولاية 2	اسم الولاية	الصحراء	الجزائر	الأوراس	وهران	القبائل	الشمال القسنطيني
		رقم الولاية	الولاية 6	الولاية 4	الولاية 1	الولاية 5	الولاية 3	الولاية 2								
		اسم الولاية	الصحراء	الجزائر	الأوراس	وهران	القبائل	الشمال القسنطيني								
		<p>(3) التعريف بالشخصيات:</p> <p>❖ محمد بلوزداد: مناضل جزائري، عضو في حركة الانتصار للحريات الديمقراطية، من مؤسسي المنظمة الخاصة ورئيسها الأول، توفي عام 1952.</p> <p>❖ جوزيف ستالين: رئيس الاتحاد السوفياتي (1924/1953)، أحد أقطاب الحرب الباردة، عرفت فترة حكمه أزمات عديدة (أزمة برلين 1 وأزمة كوريا)، تميزت سياسته بالثبوت والتعصب تجاه الكتلة الغربية، توفي عام 1953.</p> <p>❖ فيدال كاسترو: قائد الثورة الكوبية ضد الجنرال باتيستا، ورئيس كوبا من 1959 إلى 2008، طبق النظام الشيوعي، وشهدت فترة حكمه أزمة كوبا عام 1962، أحد زعماء حركة عدم الانحياز...</p>														
		<p>* الجزء الثاني:</p> <p>* مقدمة: نجاح دبلوماسية الثورة في الخارج ومبادئ السياسة الخارجية للجزائر المستقلة. (تقبل كل مقدمة وظيفية)</p> <p>(1) النجاحات التي حققتها دبلوماسية الثورة الجزائرية على المستوى الخارجي:</p> <p>❖ تدويل القضية الجزائرية بتسجيلها في جدول أعمال الدورة العاشرة للجمعية العامة لهيئة الأمم المتحدة يوم 30 سبتمبر 1955 وإعادة طرحها في 17/09/1957...</p> <p>❖ طرح القضية الجزائرية في مؤتمر باندونغ 1955 وتأييد حركة عدم الانحياز للقضية الجزائرية.</p> <p>❖ كسب تأييد جامعة الدول العربية للثورة ودعمها لحق الشعب الجزائري في تقرير مصيره...</p> <p>❖ فتح مكاتب لها في العديد من دول العالم والحصول على المساعدات المالية والأسلحة...</p> <p>❖ تأسيس الحكومة المؤقتة 1958 واعتراف العديد من الدول بها...</p> <p>❖ اجبار فرنسا على الجلوس إلى طاولة المفاوضات مع التمسك بمبادئ المفاوضات الجزائرية.</p>														
		<p>× 0.25</p> <p>6</p>														
		04	<p>(تقبل كل الإجابات الصحيحة الأخرى)</p>													

06	<p>× 0.25 6</p>	<p>(2) مبادئ السياسة الخارجية للجزائر منذ الاستقلال: ❖ الالتزام بالمواثيق الدولية (هيئة الأمم المتحدة) ... ❖ احترام سيادة الدول وقراراتها وعدم التدخل في شؤونها الداخلية... ❖ دعم الحركات التحريرية وحق الشعوب في تقرير مصيرها في العالم والوقوف إلى جانب القضايا العادلة (فلسطين والصحراء الغربية...).</p> <p>❖ العمل على التعاون والتضامن الدولي (إفريقيا، عربيا، دوليا) ... ❖ اعتماد سياسة حسن الجوار ... ❖ رفض كل أشكال العنف وانتهاج ديبلوماسية الحوار في حل المشاكل (موقف الحياد) ...</p> <p>0.50 * <u>خاتمة:</u> تبقى الجزائر وفة لمبادئ سياستها الخارجية أثناء الثورة وبعد استقلالها. (تقبل كل خاتمة وظيفية)</p> <p><u>الجغرافيا:</u> <u>الجزء الأول:</u></p> <p>(1) <u>شرح ما تحته خط في النص:</u></p> <p>0.50 ❖ <u>رؤوس الأموال:</u> الموارد المتنوعة الثابتة مثل المصانع والعقارات... والمنقولة مثل النقود والآلات... التي تستثمر في المشاريع المختلفة وتستخدم في العملية الانتاجية قصد المساهمة في الدخل الوطني... (يقبل الشرح الذي يقتصر على النقود في تعريف رؤوس الأموال تماشيا مع السياق)</p> <p>0.50 ❖ <u>الدول الصناعية الكبرى:</u> يقصد بها الدول المشكلة لمجموعة السبع (الولايات المتحدة الأمريكية، ألمانيا، بريطانيا، اليابان، فرنسا، إيطاليا، كندا) وروسيا التي تعرف تقدما في جميع المجالات، تسيطر وتهيمن على الاقتصاد العالمي.</p> <p>0.50 ❖ <u>الدول النامية:</u> مجموعة الدول التي تنتمي للعالم الثالث وتسمى كذلك بدول الجنوب، التي تعرف نموا اقتصاديا بطيئا، وتعاني من مشاكل في العديد من القطاعات رغم إمكانياتها الهائلة...</p> <p>02 (2) <u>تمثيل المعطيات الإحصائية الواردة في الجدول</u> * العنوان: 0.25 * المقياس: 0.25 * المفتاح: 0.25 * الانجاز: 1.25</p> <p>(3) <u>التعليق على الرسم البياني (أعمدة بيانية في مجال واحد) التي تمثل أهم مناطق التبادل التجاري للجزائر عام 2019:</u></p> <p>0.25 ❖ الوثيقة جغرافية اقتصادية عبارة عن أعمدة بيانية تمثل أهم مناطق التبادل التجاري للجزائر عام 2019 مصدرها المديرية العامة للجمارك الجزائرية.</p> <p>0.50 ❖ تنوع تباين نسب المبادلات التجارية بين الجزائر والمناطق الواردة في الرسم. ❖ ارتفاع نسبة المبادلات مع أوروبا بسبب القرب الجغرافي والعامل التاريخي واتفاقية الشراكة... ❖ نسبة المبادلات متوسطة مع آسيا (انخفاض أسعار السلع خاصة من الصين...) ومع أمريكا (لبعد المسافة وارتفاع الأسعار...).</p> <p>0.25 ❖ انخفاض نسبة المبادلات مع إفريقيا لضعف اقتصاد دولها والعراقيل وتشابه الصناعات... ❖ تنويع الشركاء التجاريين يجعل الجزائر تتخلص من التبعية التجارية...</p> <p>(تقبل كل الإجابات الصحيحة الأخرى)</p>
----	---------------------	-----------------------------------------------------------------------------------------------------------------------------------------------------------------------------------------------------------------------------------------------------------------------------------------------------------------------------------------------------------------------------------------------------------------------------------------------------------------------------------------------------------------------------------------------------------------------------------------------------------------------------------------------------------------------------------------------------------------------------------------------------------------------------------------------------------------------------------------------------------------------------------------------------------------------------------------------------------------------------------------------------------------------------------------------------------------------------------------------------------------------------------------------------------------------------------------------------------------------------------------------------------------------------------------------------------------------------------------------------------------------------------------------------------------------------------------------------------------------------------------------------------------------------------------------------------------------------------------------------------------------------------------------------------------------------------------------------------------------------------------------------------------------------------------------------------------------------------------------------------------------------------------------------------------------------------------------------------------------------------------------------------------------------------------------------------------------------------------------------------------------------------------------------------------------------------------------------------------------------------------------------------------------------------------------------------------------------------------------------------------------------------------------------------------------------------------

04	0.50	الجزء الثاني:
	× 0.25	مقدمة: عالم الجنوب بين مظاهر التخلف الاقتصادي وانعكاساتها على شعوبه. (تقبل كل مقدمة وظيفية)
	6	(1) مظاهر التخلف الاقتصادي لبلدان عالم الجنوب:
	× 0.25	❖ فشل السياسات الاقتصادية المتبعة من طرف دول عالم الجنوب. ❖ اعتماد العديد من دوله على الصناعة الاستخراجية. ❖ وانخفاض الدخل الوطني. ❖ انعدام الأمن الغذائي. ❖ ارتفاع المديونية في العديد من بلدانه. ❖ ضعف المساهمة في الاقتصاد العالمي.
6	(2) انعكاسات ذلك على الأوضاع الاجتماعية لشعوبها:	
× 0.25	❖ تدني المستوى المعيشي لشعوب عالم الجنوب. ❖ ارتفاع نسبة البطالة. ❖ سوء التغذية وانتشار المجاعات. ❖ تدني مستوى الخدمات الصحية. ❖ انتشار البيوت القصدية والأمراض والأوبئة. ❖ انتشار الآفات والاضطرابات الاجتماعية.	
0.50	* خاتمة: خروج عالم الجنوب من التخلف يتوقف على حسن استغلاله لإمكانياته (تقبل كل خاتمة وظيفية).	
		(تقبل كل الإجابات الصحيحة الأخرى)

النسبة %

أعمدة بيانية تمثل أهم مناطق التبادل التجاري للجزائر عام 2019.

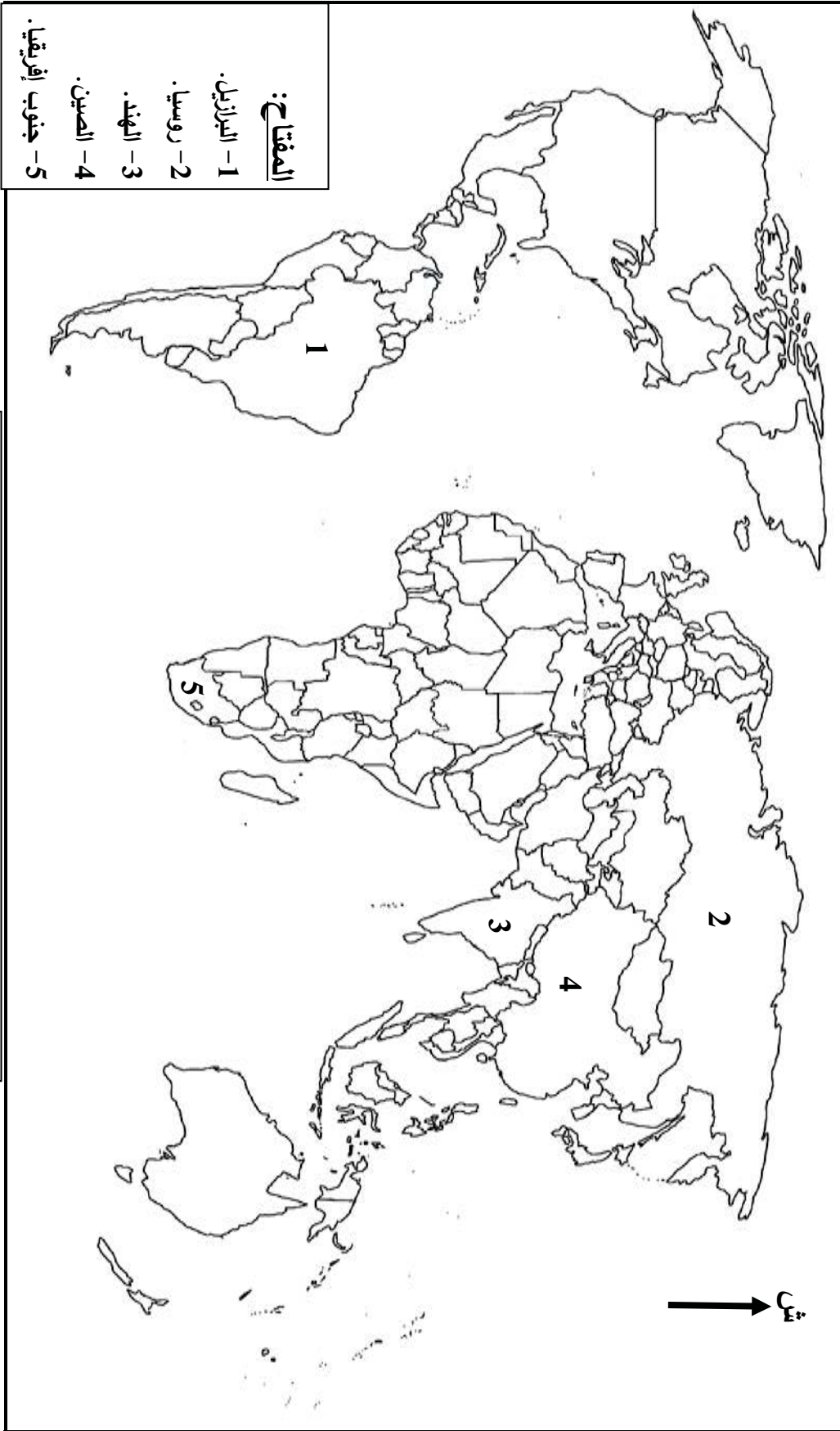


العلامة		عناصر الإجابة (الموضوع الثاني)								
مجموع	مجزأة									
06		<p>*التاريخ: *الجزء الأول:</p> <p>(1) شرح ما تحته خط في النص:</p> <p>❖ خطي شال وموريس: أسلاك شائكة مكهربة وملغمة سُميت كذلك نسبة للفرنسيين أندري موريس وزير الدفاع والجنرال شال وُضعت على كامل الحدود الشرقية مع تونس والغربية مع المغرب الأقصى لمنع الإمدادات العسكرية من الخارج وعزل الثورة...</p> <p>❖ جيش التحرير الوطني: الجناح العسكري للثورة الجزائرية، أسس في 1954 مهمته القيام بالعمليات العسكرية والفدائية ضد الاستعمار الفرنسي بهدف تحرير الجزائر، تم إعادة هيكلته وتنظيمه في مؤتمر الصومام 1956.</p> <p>❖ مناطق عسكرية محرمة: مناطق عسكرية محظورة (المناطق الحدودية، جبال الأوراس، الشمال القسنطيني، منطقة القبائل...)، أفرغها الاستعمار الفرنسي من سكانها، يُمنع فيها ممارسة أي نشاط، تخضع للمراقبة بشكل دائم، لمنع تواصل الشعب مع الثورة للتحكم في حركة أفراد الجيش التحرير الوطني.</p> <p>(2) التعريف بالشخصيات:</p> <p>❖ رايح بيطاط: مناضل جزائري، عضو المنظمة الخاصة، من مؤسسي اللجنة الثورية للوحدة والعمل، مجموعة 22، وجماعة 06، من مفجري الثورة التحريرية عام 1954، قائد المنطقة الرابعة الجزائر، اعتقل عام 1955، كان عضو في الحكومة المؤقتة كوزير دولة...</p> <p>❖ أحمد مصالي الحاج: زعيم التيار الاستقلالي في الجزائر، مؤسس نجم شمال إفريقيا عام 1926، وحزب الشعب الجزائري في 1937، وحركة الانتصار للحريات الديمقراطية عام 1946، اعتقل ونفي ووضع في الإقامة الجبرية عدة مرات، لقب بأب الحركة الوطنية الجزائرية...</p> <p>❖ جوهرلال نهرو: رئيس الهند، قاد الثورة ضد الاستعمار البريطاني إلى جانب غاندي، من مؤسسي المؤتمر الوطني الهندي، شارك مؤتمر باندونغ في إندونيسيا عام 1955، من مؤسسي حركة عدم الانحياز عام 1961 وأحد أقطابها...</p> <p>(3) اكمال الجدول:</p> <table border="1" style="margin-left: auto; margin-right: auto;"> <thead> <tr> <th>التاريخ</th> <th>الحدث</th> </tr> </thead> <tbody> <tr> <td>9/5 سبتمبر 1973</td> <td>انعقاد المؤتمر الرابع لحركة عدم الانحياز</td> </tr> <tr> <td>22 سبتمبر 1947</td> <td>إعلان مبدأ جدانوف</td> </tr> <tr> <td>04 أبريل 1949</td> <td>تأسيس حلف شمال الأطلسي</td> </tr> </tbody> </table>	التاريخ	الحدث	9/5 سبتمبر 1973	انعقاد المؤتمر الرابع لحركة عدم الانحياز	22 سبتمبر 1947	إعلان مبدأ جدانوف	04 أبريل 1949	تأسيس حلف شمال الأطلسي
	التاريخ	الحدث								
	9/5 سبتمبر 1973	انعقاد المؤتمر الرابع لحركة عدم الانحياز								
	22 سبتمبر 1947	إعلان مبدأ جدانوف								
	04 أبريل 1949	تأسيس حلف شمال الأطلسي								
			<p>* الجزء الثاني:</p> <p>* مقدمة: العلاقات الدولية في ظل الجنوح إلى السلم.</p> <p>(1) عوامل قبول الطرفين المتصارعين التقارب والتفاهم:</p> <p>❖ تغير قيادتي الدولتين بوفاة ستالين في الاتحاد السوفياتي وذهاب ترومان في الولايات المتحدة الأمريكية.</p> <p>❖ توازن الرعب النووي (امتلاك الطرفين أسلحة الدمار الشامل) وتأكيد استحالة انتصار أحدهما على الآخر.</p> <p>❖ بروز خلافات داخل الكتلتين (انسحاب فرنسا من الحلف الأطلسي والخلاف السوفياتي الصيني).</p> <p>❖ ضغط كتلة العالم الثالث من خلال مؤتمر بان دونغ 1955 وظهور حركة عدم الانحياز وتبنيها الحياد الإيجابي.</p> <p>(تقبل كل الإجابات الصحيحة الأخرى)</p>							
	04	0.25 × 6								

		<p>❖ ضغط الرأي الأمريكي الرفض لسياسة التدخلات العسكرية الأمريكية في العالم .</p> <p>❖ الأزمات الاقتصادية التي شهدتها الاقتصاد السوفياتي والأمريكي بسبب ارتفاع النفقات العسكرية.</p> <p>(2) <u>انعكاسات ذلك على العلاقات الدولية:</u></p> <p>❖ حلّ بعض الأزمات بالطرق السلمية مثل: أزمة قناة السويس...</p> <p>❖ تجنب العالم حرب عالمية ثالثة...</p> <p>❖ تراجع حدة الصراع والتوتر خاصة بعد أزمة كوبا...</p> <p>❖ تحسن العلاقات بين القوتين من خلال تبادل الزيارات وعقد لقاءات وإنشاء الخط الهاتفي الأحمر 1963.</p> <p>❖ التعاون بين القوتين في مجال غزو الفضاء عام 1975...</p> <p>❖ توقيع اتفاقيات للحدّ من انتشار أسلحة الدمار الشامل مثل سالت 1 عام 1972 وسالت 2 عام 1979.</p> <p>* <u>خاتمة:</u> الانفراج في العلاقات الدولية.</p> <p><u>* الجغرافيا:</u></p> <p><u>* الجزء الأول:</u></p> <p>(1) <u>شرح ما تحته خط في النص:</u></p> <p>❖ <u>النمو الاقتصادي:</u> التحسن الذي تعرفه دولة ما من خلال مجموعة مؤشرات مثل: الزيادة في النمو الداخلي والدخل القومي والزيادة في الإنتاج الصناعي والزراعي والخدمات...</p> <p>❖ <u>الموارد الطبيعية:</u> مواد خام معدنية وطاقوية ونباتية تستخدم في النشاط الاقتصادي وهي نوعان متجددة مثل الماء، الرياح، الحرارة... وأخرى غير متجددة مثل البترول والغاز والمعادن...</p> <p>❖ <u>المؤشرات:</u> (جمع مؤشر) رقم احصائي لقياس ظاهرة معينة خلال فترة زمنية محددة سلبا أو إيجابا...</p> <p>(2) <u>التعليق على المعطيات الإحصائية الواردة في الجدول الذي يمثل قيمة صادرات لمجموعة بريكس 2021:</u></p> <p>❖ الوثيقة جغرافية اقتصادية عبارة عن جدول احصائي يمثل قيمة صادرات مجموعة بريكس عام 2021، مصدرها قاعدة بيانات البنك العالمي للإنشاء والتعمير عام 2022.</p> <p>❖ ضخامة وتباين قيمة صادرات مجموعة بريكس.</p> <p>❖ تصدر الصين مجموعة بريكس من حيث قيمة الصادرات نتيجة نمو اقتصادها السريع وانخفاض أسعار منتجاتها في الأسواق العالمية...</p> <p>❖ تساهم مجموعة بريكس بـ 4655 مليار دولار في الصادرات العالمية (أكثر من ربع الصادرات العالمية) نتيجة غزو سلعها وخدماتها في الأسواق العالمية.</p> <p>❖ مجموعة بريكس قوة اقتصادية مرشحة لأن تصبح أقوى اقتصاد في العالم.</p> <p>(3) <u>التوقيع على خريطة العالم دول مجموعة بريكس (BRICS) الواردة في الجدول:</u></p> <p>- العنوان: 0.25-المفتاح: 0.25-الإنجاز: (البرازيل، الهند، الصين، روسيا، جنوب إفريقيا 0.25 × 5).</p> <p>مقدمة: شرق وجنوب شرق آسيا بين مظاهر قوتها الاقتصادية والمعيقات التي تعترضها. (تقبل كل مقدمة وظيفية)</p> <p>(1) <u>مظاهر تحوّل منطقة شرق وجنوب شرق آسيا إلى قطب اقتصادي عالمي:</u></p> <p>❖ ضخامة الانتاج الصناعي وتنوعه حيث تنتج مختلف الماركات العالمية.</p> <p>❖ ارتفاع الدخل القومي والدخل الفردي لدول المنطقة.</p> <p>❖ ارتفاع نسبة مساهمتها في التجارة العالمية حوالي 25 %.</p> <p>❖ ضخامة الاستثمارات الأجنبية في المنطقة...</p> <p>❖ توفرها على أكبر أسطول بحري تجاري في العالم...</p> <p>❖ التطور التكنولوجي والعلمي والقدرة على الابتكار (النكاء الاصطناعي) ...</p>
× 0.25	6	
0.50		
0.75		
0.50		
0.75		
0.25		
0.50		
4×		
06		
1.75		
0.50		
× 0.25	6	

04	× 0.25 6 0.50	<p>(تقبل كلّ الإجابات الصحيحة الأخرى)</p> <p>(2) <u>المعيقات التي تعترض اقتصادها:</u></p> <ul style="list-style-type: none">❖ افتقارها للمواد الأولية خاصة مصادر الطاقة.❖ الطابع الأرخبيلي لدول المنطقة.❖ تعرض دول المنطقة للكوارث طبيعية باستمرار (الفيضانات، الزلازل، البراكين...).❖ ارتفاع نسبة الشيخوخة في العديد من دولها.❖ تباين وتيرة التنمية بين الريف والمدينة.❖ تبعيتها للخارج في بعض المحاصيل الزراعية خاصة القمح. <p><u>خاتمة:</u> لدول شرق وجنوب شرق آسيا القدرة على تخطي المعوقات التي تعترضها. (تقبل كلّ خاتمة وظيفية)</p> <p>(تقبل كلّ الإجابات الصحيحة الأخرى)</p>
----	-------------------------	------------------------------------------------------------------------------------------------------------------------------------------------------------------------------------------------------------------------------------------------------------------------------------------------------------------------------------------------------------------------------------------------------------------------------------------------------------------------------------------------------------------------------------------------------------------------------------------------------------------------------------------------

خريطة العالم



دول مجموعة بريكس (BRICS) الواردة في الجدول على خريطة العالم.

ينجز العمل المطلوب على الخريطة وتعاد مع أوراق الإجابة