

الجمهورية الجزائرية الديمقراطية الشعبية
وزارة التربية الوطنية
الديوان الوطني للامتحانات والمسابقات

امتحان بكالوريا التعليم الثانوي

دورة: 2024

الشعبة: علوم تجريبية، رياضيات، تقني رياضي، فنون

المدة: 03 سا و 30 د

اختبار في مادة: التاريخ والجغرافيا

على المترشح أن يختار أحد الموضوعين الآتيين:

الموضوع الأول

يحتوي الموضوع على صفتين (02) (من الصفحة 1 من 5 إلى الصفحة 2 من 5)

التاريخ:

الجزء الأول: (06 نقاط)

1) '... نظرا للسلطات التي حولها المجلس الوطني للثورة الجزائرية إلى لجنة التنسيق والتنفيذ، فإن لجنة التنسيق والتنفيذ قد قررت تكوين حكومة مؤقتة للجمهورية الجزائرية. وجاء في البيان الأول للحكومة المؤقتة بعد أن تعهدت بأن تبقى وفية للمبادئ السامية للثورة التحريرية، التي سطرها بيان أول نوفمبر، نددت بالسياسة الفرنسية الزامية إلى إدماج الشعب الجزائري بفرنسا...'.
المرجع: محمد لحسن زغدي. مؤتمر الصومام وتطور ثورة التحرير الوطني الجزائرية (1962/1956). دار هومة للطباعة والنشر والتوزيع الجزائر. عام 2009. صفحة 191.

المطلوب: اشرح ما تحته خط في النص.

2) أكمل الجدول التالي:

التاريخ	الحدث
08 سبتمبر 1954
.....	إضراب الطلبة المسلمين الجزائريين
13 أوت 1961

الجزء الثاني: (04 نقاط)

لم يكن لينتهي صراع القطبين بعد الحرب العالمية الثانية، والذي استمر حتى عام 1989 دون أن تكون له انعكاسات مختلفة على مسار العلاقات الدولية.

المطلوب: انطلاقا من العبارة واعتمادا على ما درست، اكتب مقالا تاريخيا تبيين فيه:

1) طبيعة الصراع بين القطبين.

2) انعكاساته على مسار العلاقات الدولية.

الجغرافيا:

الجزء الأول: (06 نقاط)

1) ... في ظلّ تمتّع الولايات المتحدة الأمريكية بتعداد سكاني كبير وارتفاع في النخل الفردي، فهي تُشكّل أكبر سوق استهلاكية في العالم... وهو ما يُميّزُ هذا الاقتصاد الذي يعتمد على الاستهلاك قبل الادّخار والاستثمار، كآلية لنفع مسيرة النمو الاقتصادي، ولذلك تتباعدت مختلف الدّول على التصدير للولايات المتحدة الأمريكية... .

المرجع: المواقع الزاهنة للقوى في النظام الاقتصادي العالمي. قراءة في التقارير الدولية. مجلة المنياسة الدولية. العدد: 173. المجلد: 43. جويلية 2008. صفحة 57.

المطلوب: اشرح ما تحته خط في النص.

2) إليك جنولا يمتد قيمة تجارة البضائع للاتحاد الأوروبي مع بعض الشركاء التجاريين عامي 2021 و2022.

الوحدة: مليار دولار.

المنتجات	الوج. الأمريكية	الصين	روسيا	سويسرا	اليابان
2021	633.07	697.29	252.84	280.75	124.60
2022	867.99	856.91	258.52	333.47	141.55

المصدر: La Suisse et L'UE en chiffres. Statistiques relatives au commerce, à la population et au transport. Août 2023.P12.

المطلوب: مَسّ المعطيات الإحصائية الواردة في الجدول بأعمدة بيانية في مجال واحد بمقياس رسم:

1 سم لكل 80 مليار دولار.

1 سم لكل عمود.

الجزء الثاني: (04 نقاط)

يُتّيز التطور الاقتصادي الكبير الذي تعرفه منطقة شرق وجنوب شرق آسيا اهتمام الكثير، فرغم المعوقات التي تعترضها، إلا أنها حجزت لنفسها مكانة اقتصادية بين اقتصادات العالم. المطلوب: انطلاقا من العبارة واعتمادا على ما درست، اكتب مقالا جغرافيا تبين فيه:

1) عوامل التطور الاقتصادي لمنطقة شرق وجنوب شرق آسيا.

2) المعوقات الداخلية التي تعترض اقتصادها.

الموضوع الثاني

يحتوي الموضوع على (03) صفحات (من الصفحة 3 من 5 إلى الصفحة 5 من 5)

التاريخ:

الجزء الأول: (06 نقاط)

(1) '... تعرض حلف شمال الأطلسي لمطّارِق نَقْدٍ عَنيفَةٍ انبجالت عليه من قِبَلِ الذول الاشتراكية ودول عدم الانحياز... فأما الذول الاشتراكية فنرى أن الحلف يناقِضُ في جوهره قضية السلام ومبادئ الأمم المتحدة... أما أنصار عدم الانحياز فإنهم ينعَون على الحلف... أنه أكد انقسام العالم إلى كتلتين متناهضتين... ولأنه يدعو إلى السباق نحو التسلح... ولأنه استخيم في تدعيم الاستعمار وقمع الحركات التحررية...'

المرجع: د/ محمد عزيز شكري. الأحلاف والتكتلات في السياسة العالمية.

عالم المعرفة 07. صفحة 42.

المطلوب: اشرح ما تحته خط في النص.

(2) على خريطة العالم المرفقة، وقّع دولتين من دول حلف شمال الأطلسي ودولتين من دول حركة عدم الانحياز.

الجزء الثاني: (04 نقاط)

اعتمدت الثورة الجزائرية عبر مراحل كفاحها على استراتيجية داخلية وخارجية، فداخليا اعتمدت على مخططات عسكرية أفضلت بها كل استراتيجيات المستعمر في القضاء عليها، وخارجيا على نشاط دبلوماسي عزفت به العالم بالقضية الجزائرية وأكسبها تأييدا دوليا.

المطلوب: انطلاقا من العبارة واعتمادا على ما درست، اكتب مقالا تاريخيا تبين فيه:

(1) المخططات العسكرية التي اعتمدت عليها الثورة داخليا.

(2) وسائل التعريف بالقضية الجزائرية خارجيا.

اختبار في مادة: التاريخ والجغرافيا // الشعبة: علوم تجريبية، رياضيات، تقني رياضي، فنون // بكالوريا 2024

الجغرافيا:

الجزء الأول: (06 نقاط)

(1) "... أصبح الاتحاد الأوروبي ساري المفعول ابتداء من سنة 1993 طبقا لمُقْتَضِيَّاتِ معاهدة ماستريخت... حيث عمل على تحرير عمليات الدَّفْع وحركة رؤوس الأموال بين الدول الأعضاء، وزيادة التعاون بين الهيئات العامة، ومزيدا من التَّطابق في السِّيَاسة الاقتصادية... داخل المجموعة الأوروبية وصولا إلى إنشاء البنك المركزي الذي يقوم برسم السِّيَاسة النَقديَّة وإصدار العملة الموحدة... ثم تابعت الدول الأوروبية عملية الاندماج والوحدة وضمَّ دول جديدة من أوروبا الشَّرقيَّة..."

المرجع: وليد إبراهيم حذيفة. القوى الاقتصادية الصاعدة في ظل العولمة. (2015/2014). صفحة 46.

المطلوب: اشرح ما تحته خط في النَّص.

(2) إليك جدولا يمثل نسبة مساهمة بعض الدول في إنتاج الغاز الطبيعي في العالم عام 2022.

الدول	الو.م. الأمريكية	روسيا	إيران	الصين	كندا	قطر	م.ع.السعودية	الجزائر
النسبة %	24.2	15.3	6.4	5.5	4.6	4.4	3.0	2.4

المصدر: Source: The Energy Institute Statistical Review of World Energy 2023.

المطلوب: علق على المعطيات الإحصائيَّة الواردة في الجدول.

الجزء الثاني: (04 نقاط)

يتظاهر عالم الشَّمال (المتقدِّم) بمساعدة عالم الجنوب (المتخلف) للخروج من دائرة التخلف، إلا أنَّ الواقع يُشير أنه يريد بقاءه على حاله لاستغلال ثرواته الهائلة خدمة لاقتصاده.

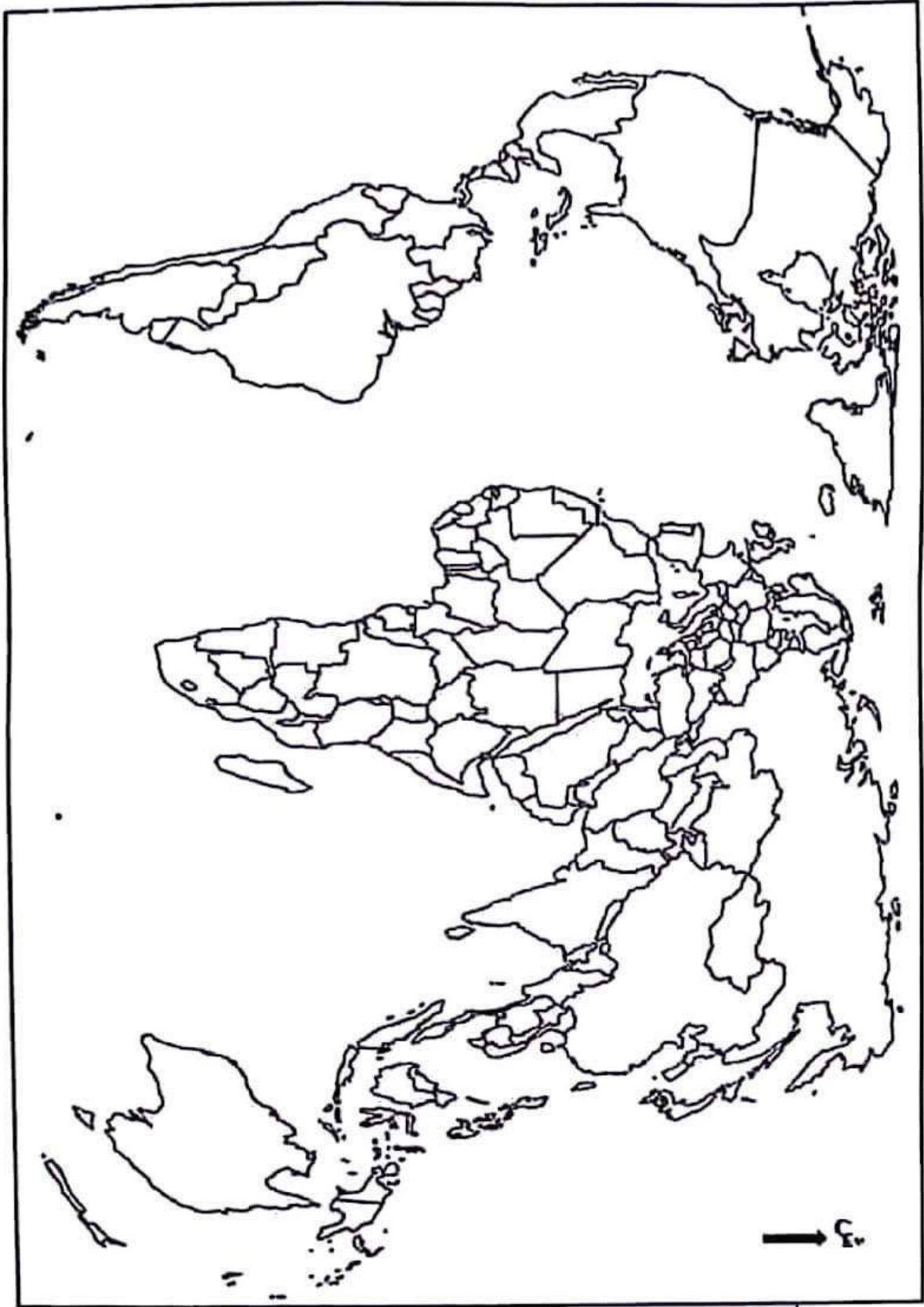
المطلوب: انطلاقا من العبارة واعتمادا على ما درست، اكتب مقالا جغرافيا تبين فيه:

(1) مظاهر التَّخلف الاقتصاديَّة لعالم الجنوب.

(2) أهميَّة عالم الجنوب الاقتصاديَّة بالنسبة لعالم الشَّمال.

اختيار في مادة: التاريخ والجغرافيا // الشعبة: علوم تجريبية، رياضيات، تقني رياضي، فنون // بكالوريا 2024

الخريطة تابعة للموضوع الثاني (تاريخ). خريطة العالم



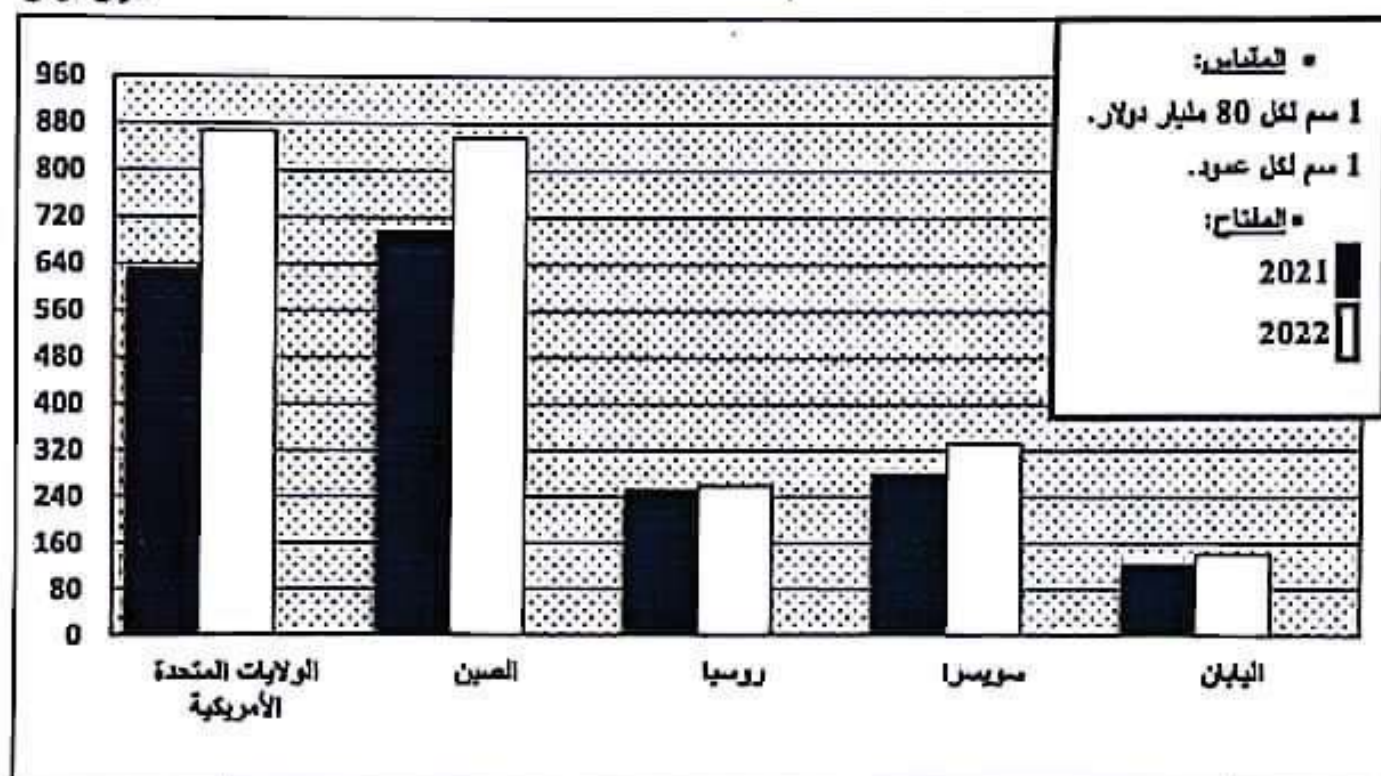
انتهى الموضوع الثاني

ينجز العمل المطلوب على الخريطة وتعاد مع أوراق الإجابة

		<u>الجزء الثاني:</u>
		<u>الجزء الأول:</u>
		<u>1) شرح ما تمتع خط في النص:</u>
06	01	• <u>النظر الثوري:</u> نصيب الفرد من الثروة المتدفقة في بلد ما خلال سنة، يُعرب بتقسيم الناتج (الدخل) الوطني الخام على عدد سكان ذلك البلد، ويحسب بالتولار وهو مؤشر دال على مستوى المعيشة...
	01	• <u>سوق استهلاكية:</u> فضاء يلتقي فيه عارضو السلع والخدمات مع المشترين وتتم فيه عملية البيع والشراء...
	01	• <u>النمو الاقتصادي:</u> التمسك والتطور الذي يحدث في اقتصاد دولة ما على مجموعة من المؤشرات وتشمل كل القطاعات (الزراعة، الصناعة، الخدمات) مثل الزيادة في الناتج الداخلي...
		<u>2) التمثل التالي: (أصدة ملانة).</u>
	03	*المزولن: 0.50 *المفتاح: 0.50 *المقياس: 0.50 *الإحجاز: 01.50
		ملاحظة: - يقبل التمثل البياني في حالة الفصل بين عمودي الصادرات والتوريدات.
		<u>الجزء الثاني:</u>
	0.50	<u>مقدمة:</u> منطقة شرق وجنوب شرق آسيا بين عوامل قوة اقتصادها والمعوقات التي تعترضه. (تقبل كل مقدمة وتقييمية)
		<u>1) عوامل التطور الاقتصادي لمنطقة شرق وجنوب شرق آسيا:</u>
		• الوزن التيمغرافي للمنطقة (سوق استهلاكية واسعة، يد عاملة كبيرة تتميز بالانضباط والإتقان في العمل...).
		• التطور التكنولوجي الكبير وسرعة تكيف الفرد الآسيوي مع تكنولوجيا المدينة...
	0.25	• تعلق رؤوس أموال العمال المهاجرين...
04	6*	• الانفتاح على الاقتصاد العالمي واستقطاب الاستثمارات الأجنبية...
		• تشابه التذائف سهل عملية الاندماج والتكامل (الآسيان)...
		• وفرة البنية التحتية مثل السواحل والأساطيل البحرية...
		<u>2) المعوقات الداخلية التي تعترض اقتصادها:</u>
		• تباين مستوى التقدم بين دول المنطقة .
		• التنافس الداخلي بين بلدان المنطقة.
	0.25	• افتقار المنطقة للموارد الطبيعية...
	6*	• تعرض المنطقة لكوارث طبيعية (فيضانات، زلازل وأعاصير...).
		• انتشار ظاهرة التلوث البيئي...
		• الصدمات المالية سال لزمة 2007-2008 باندونسيا.
	0.50	<u>خاتمة:</u> تزداد منطقة شرق وجنوب شرق آسيا تنعما رغم المعوقات التي تعترضها. (تقبل كل خاتمة وتقييمية) (تقبل كل الإجابات الصحيحة الأخرى)

أعد بياناً تمثل قيمة تجارة البضائع في الاتحاد الأوروبي مع بعض الشركاء التجاريين عامي 2021 و2022.

مليار دولار

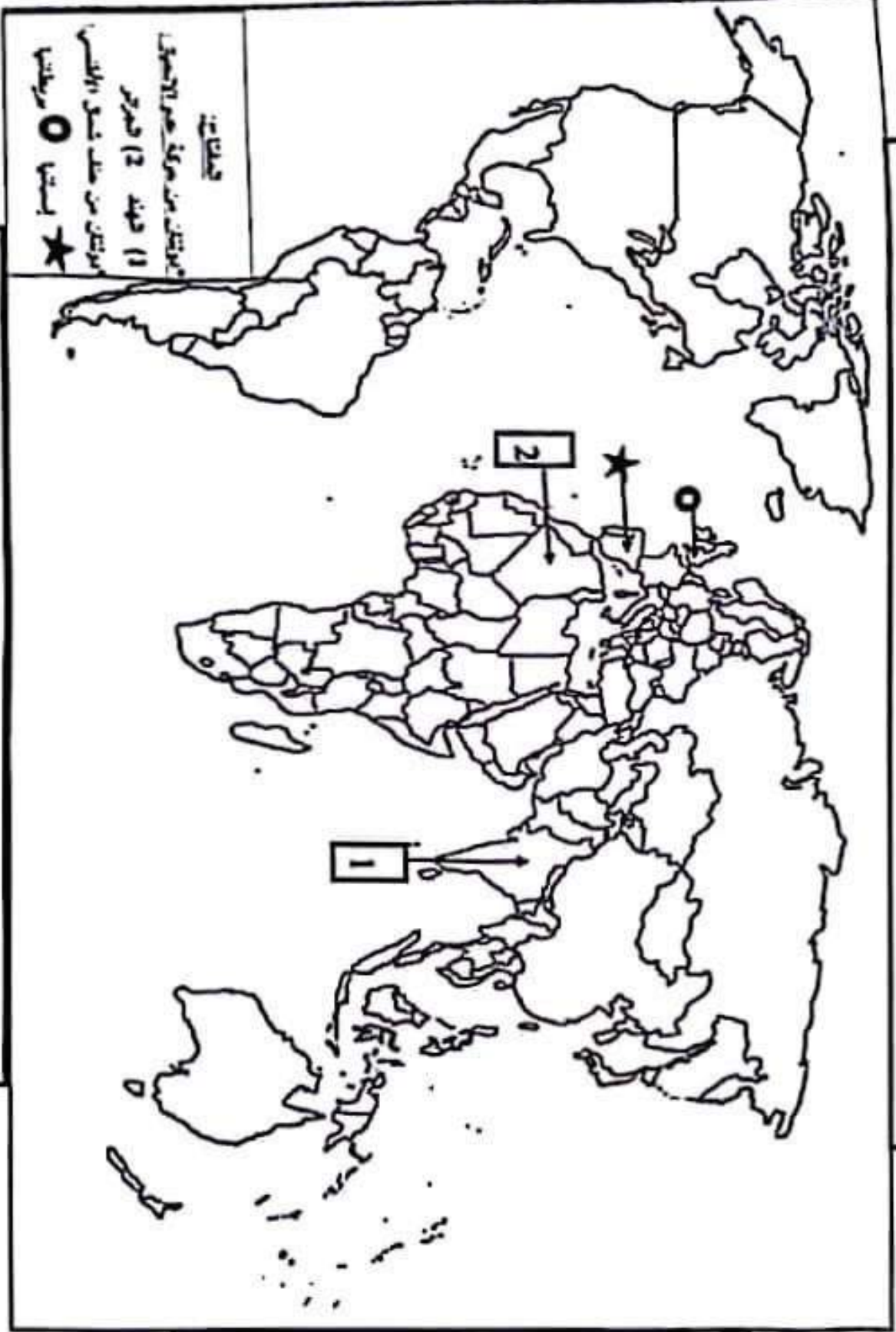


ملاحظة: يقبل التمثيل البياني في حالة الفصل بين عمودي الصادرات والواردات.

المادة		عناصر الإجابة: (الموضوع الثاني)
مجموع	مجازة	
06	01	<p>التاريخ: الجزء الأول: 1) توج ما تحته خط في النص: <ul style="list-style-type: none"> • الأمر المتعدد: هيئة دولية تأسست عام 24 أكتوبر 1945، مقرها نيويورك (و.م.أ) تتكون من عدة أجهزة أهمها الجمعية العامة، مجلس الأمن الدولي وسحكمة العدل الدولية، هدفها تحقيق السلم والأمن في العالم... • عدم الاتصت: سياسة ظهرت أثناء الحرب الباردة، شنتها مجموعة من الدول الإفريقية والآسيوية حديثة الاستقلال وتضي عم الميل إلى أحد المسكرين المتصارعين الشرقي أو الغربي... • التسليح بعد التسريح: استراتيجية عسكرية انتهجتها الثورتان خلال الحرب الباردة، تقوم على إنتاج وتطوير أسلحة الدمار الشامل (الأسلحة النووية والبيولوجية...) بهدف انتشار أعضها على الأخر... </p>
	03	<p>2) توقي على الخريطة: * العنوان: 0.50 * الملتاح: 0.50 * الإلتاح: 0.50 = 4 = 02 [ملاحظة: تامل كل الدول الأخرى التي تتسي لعتف شمال الأطلسي والتي تتسي لعتف حركة عدم الاتصت.]</p>
	0.50	<p>الجزء الثاني: مقدمة: الثورة الجزائرية بين تنفيذ مخططاتها العسكرية داخليا ورسائل التعرف بها خارجيا. (تامل كل ملقمة وقبلمية) 1) المخططات العسكرية التي اعتمدت عليها الثورة داخلنا: <ul style="list-style-type: none"> • تجنب المواجة المباشرة مع المستمر لعدم تساوي القوتين. (اعتصام حرب الكرز والقرز والكمان) • اشراك الشعب في الهجمات العسكرية ضد العدو (هجمات الشمال لتسنطيني 1955/8/20) وتوسيع نطاق الثورة عبر كل أرباض الوطن لتشتيت لوقت العدو. • تصخير وحدت جيش التحرير الوطني لمواجهة المخططات العسكرية الفرنسية (مخططات 1959). • تصخير جيش التحرير الوطني بتحديد المسؤوليات والرتب والمهام بموجب قرارات مؤتمر الصومام 1956/8/20 • نقل الثورة من الأرياف إلى المدن (معركة الجزائر 1957). • تقسيم الجزائر إلى مناطق ولايات عسكرية لتسيق ولتضيق للثورة. </p>
04	0.25 6*	<p>2) رسائل التعرف بالفضة الجزائرية داخلنا: <ul style="list-style-type: none"> • تشكيل الوفد الخارجي للتعرف بالثورة • فتح مكاتب دبلوماسية للثورة في الدول الصديقة والشقيقة. • تأسيس الحكومة المؤقتة في 1958 في القاهرة (مصر). • المشاركة في المعاقل الدولية (مؤتمر بانكوك عام 1955...). • اندراج القضية الجزائرية في الثورة المشتركة لبيئة الأمم المتحدة عام 1955/9/30. • تأسيس إذاعة صوت الحرير في القاهرة وتأسيس وكالة الأنباء الجزائرية. </p>
	0.50	<p>• النتيجة: نجاح الثورة تحقق بفضل تكامل العمل الداخلي والخارجي. (تامل كل ملقمة وقبلمية) (تامل كل الإجابات الصحيحة الأخرى)</p>

رخصة تابعة لموضوع ثانوي (تاريخ)

خريطة العالم



التوقيع على خريطة العالم دولتين من دول حلف شمال الأطلسي ودولتين من دول حركة عدم الانحياز.

(ملاحظة: تطلب عن الدول الأخرى التي تنتمي لحلف شمال الأطلسي والتي تنتمي لحركة عدم الانحياز.)

ينجز العمل المطلوب على الخريطة وتعاد مع أوراق الإجابة